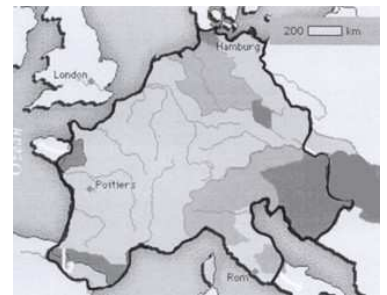


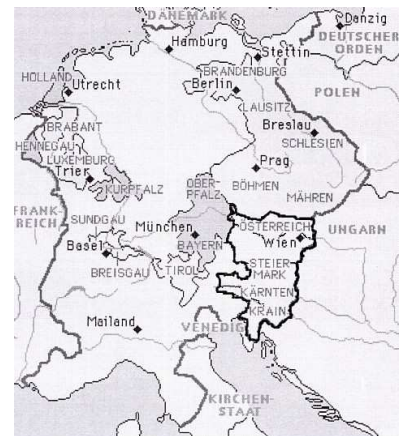
15. Aus der Geschichte Österreichs

1. Welches Reich zeigt die Karte 1?
2. Zu welchem Reich gehörte das Gebiet Österreichs bis zum 10. Jahrhundert?



Karte 1

3. Wie wurde Österreich zum ersten Mal im Jahre 996 genannt?
4. Welches Reich zeigt die Karte 2?
5. Zu welchem Reich gehörte Österreich ab dem 11. Jahrhundert?



© Microsoft Corporation. Alle Rechte vorbehalten.

Karte 2

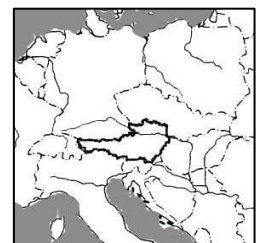
6. Wann gewann Rudolf von Habsburg Österreich?
7. Von wann bis wann herrschten die Habsburger als Kaiser im Heiligen Römischen Reich deutscher Nation?
8. Seit wann bedrohten die Osmanen das Kaiserreich?
9. Wann eroberte Österreich gegen die Türken ganz Ungarn mit Siebenbürgen?

10. Welchen Staat zeigt die Karte 3?
11. Bis zu welchem Jahr bestand dieser Staat?



Karte 3

12. Welchen Staat zeigt die Karte 4?



Karte 4